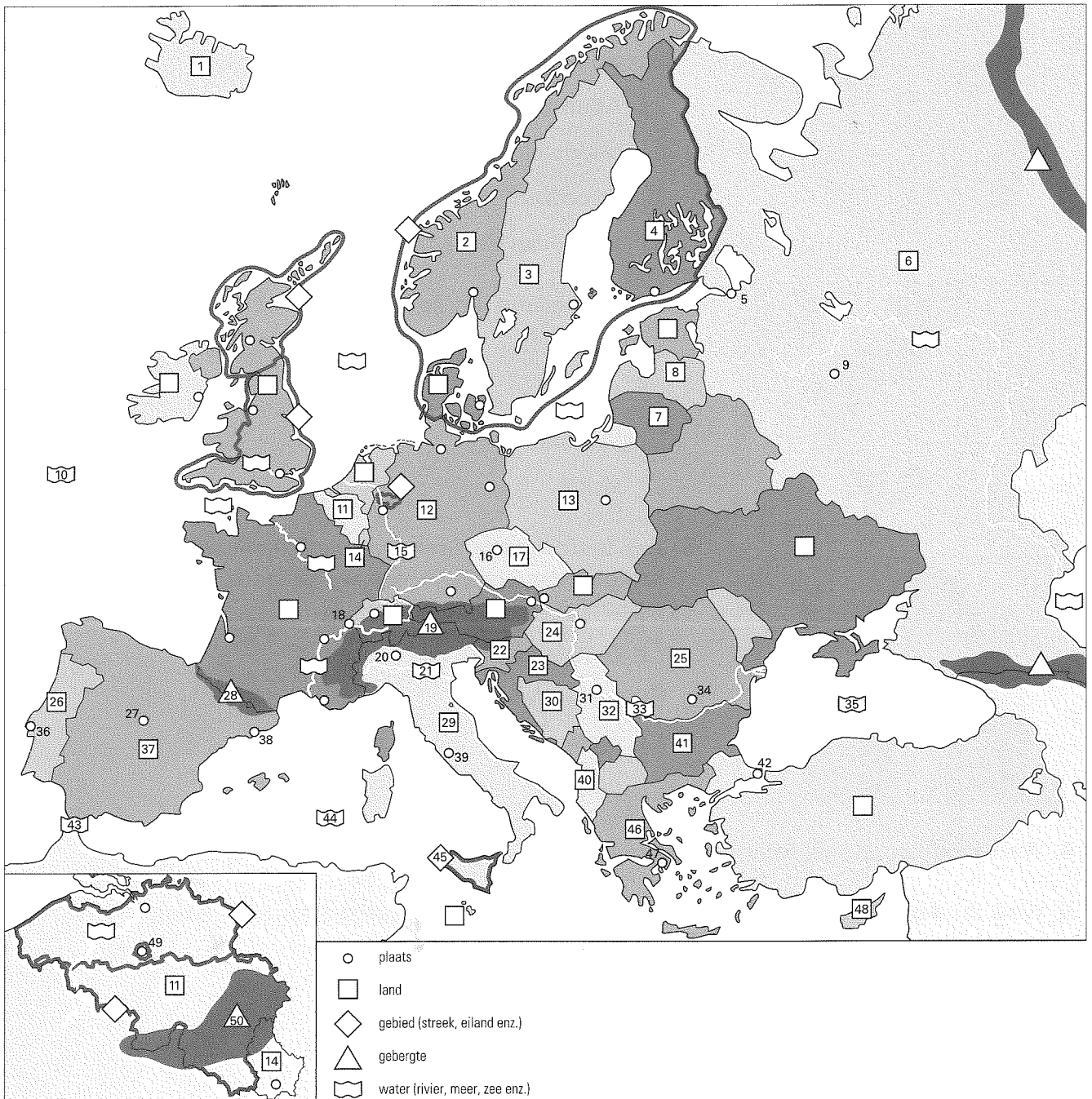


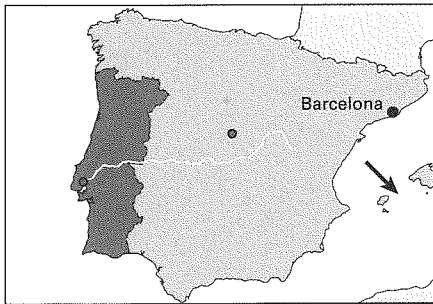
Naam: _____ Datum: _____ Aantal goed: _____



Gebruik de namen op het Antwoordblad van Huiswerkblad A om de topotoppers op deze kaart uit je hoofd te leren.

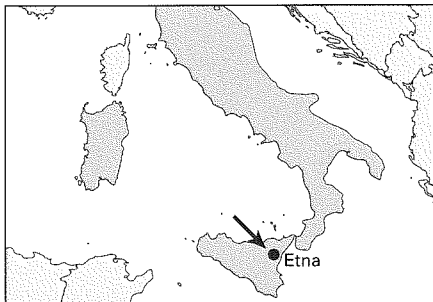
Laat je daarna overhoren. Bij de overhoring gebruik jij Huiswerkblad A en degene die jou overhoort het Antwoordblad van Huiswerkblad A.

Naam: _____ Datum: _____ Aantal goed: _____



1. Er is een gevaarlijke haai gesignaleerd aan de kust bij Barcelona. In welk water is de haai gezien?

- Atlantische Oceaan
- Middellandse Zee
- Noordzee
- Straat van Gibraltar



2. Op welk eiland ligt de vulkaan Etna?

- Cyprus
- Malta
- Sardinië
- Sicilië



3. Kop in de krant: "Grensovergang Pyreneeën dicht door hevige sneeuwval". Tussen welke landen is geen verkeer mogelijk? Tussen Spanje en ...

- Duitsland
- Frankrijk
- Italië
- Portugal

4. Welk land ligt aan de Atlantische Oceaan?

België / Duitsland / Portugal

5. Welk land grenst aan Duitsland?

Hongarije / Rusland / Polen

6. Milaan ligt in Italië.

Ja / Nee

7. De Straat van Gibraltar ligt bij Spanje.

Ja / Nee

8. Letland grenst aan Noorwegen.

Ja / Nee

9. Cyprus ligt voor de kust van Italië.

Ja / Nee

10. De rivier de Po stroomt door Sicilië.

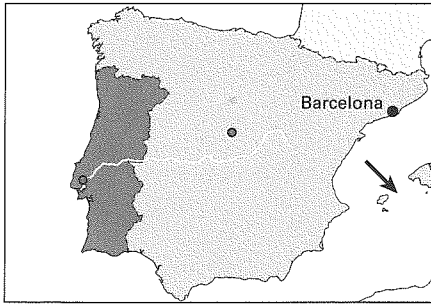
Ja / Nee

Naam: _____ Datum: _____ Aantal goed: _____

Leer de onderstaande plaatsen bij de kaart van Huiswerkblad A.

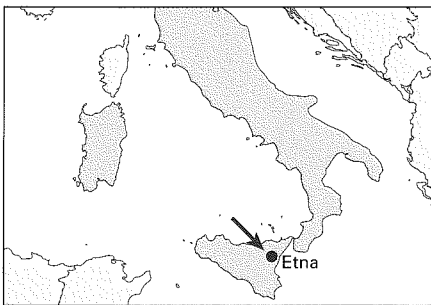
- | | |
|-----------------------|--------------------------|
| 1 IJsland | 26 Portugal |
| 2 Noorwegen | 27 Madrid |
| 3 Zweden | 28 Pyreneeën |
| 4 Finland | 29 Italië |
| 5 Sint-Petersburg | 30 Bosnië en Herzegovina |
| 6 Rusland | 31 Belgrado |
| 7 Litouwen | 32 Servië |
| 8 Letland | 33 Donau |
| 9 Moskou | 34 Boekarest |
| 10 Atlantische Oceaan | 35 Zwarte Zee |
| 11 België | 36 Lissabon |
| 12 Duitsland | 37 Spanje |
| 13 Polen | 38 Barcelona |
| 14 Luxemburg (land) | 39 Rome |
| 15 Rijn | 40 Albanië |
| 16 Praag | 41 Bulgarije |
| 17 Tsjechië | 42 Istanbul |
| 18 Genève | 43 Straat van Gibraltar |
| 19 Alpen | 44 Middellandse Zee |
| 20 Milaan | 45 Sicilië |
| 21 Po | 46 Griekenland |
| 22 Slovenië | 47 Athene |
| 23 Kroatië | 48 Cyprus |
| 24 Hongarije | 49 Brussel |
| 25 Roemenië | 50 Ardennen |

Naam: _____ Datum: _____ Aantal goed: _____




1. Er is een gevaarlijke haai gesignaleerd aan de kust bij Barcelona. In welk water is de haai gezien?

- Atlantische Oceaan
 Middellandse Zee
 Noordzee
 Straat van Gibraltar



2. Op welk eiland ligt de vulkaan Etna?

- Cyprus
 Malta
 Sardinië
 Sicilië



3. Kop in de krant: "Grensovergang Pyreneeën dicht door hevige sneeuwval". Tussen welke landen is geen verkeer mogelijk? Tussen Spanje en ...

- Duitsland
 Frankrijk
 Italië
 Portugal

4. Welk land ligt aan de Atlantische Oceaan?

België / Duitsland / (Portugal)

5. Welk land grenst aan Duitsland?

Hongarije / Rusland / (Polen)

6. Milaan ligt in Italië.

(Ja) / Nee

7. De Straat van Gibraltar ligt bij Spanje.

(Ja) / Nee

8. Letland grenst aan Noorwegen.

Ja / (Nee)

9. Cyprus ligt voor de kust van Italië.

Ja / (Nee)

10. De rivier de Po stroomt door Sicilië.

Ja / (Nee)