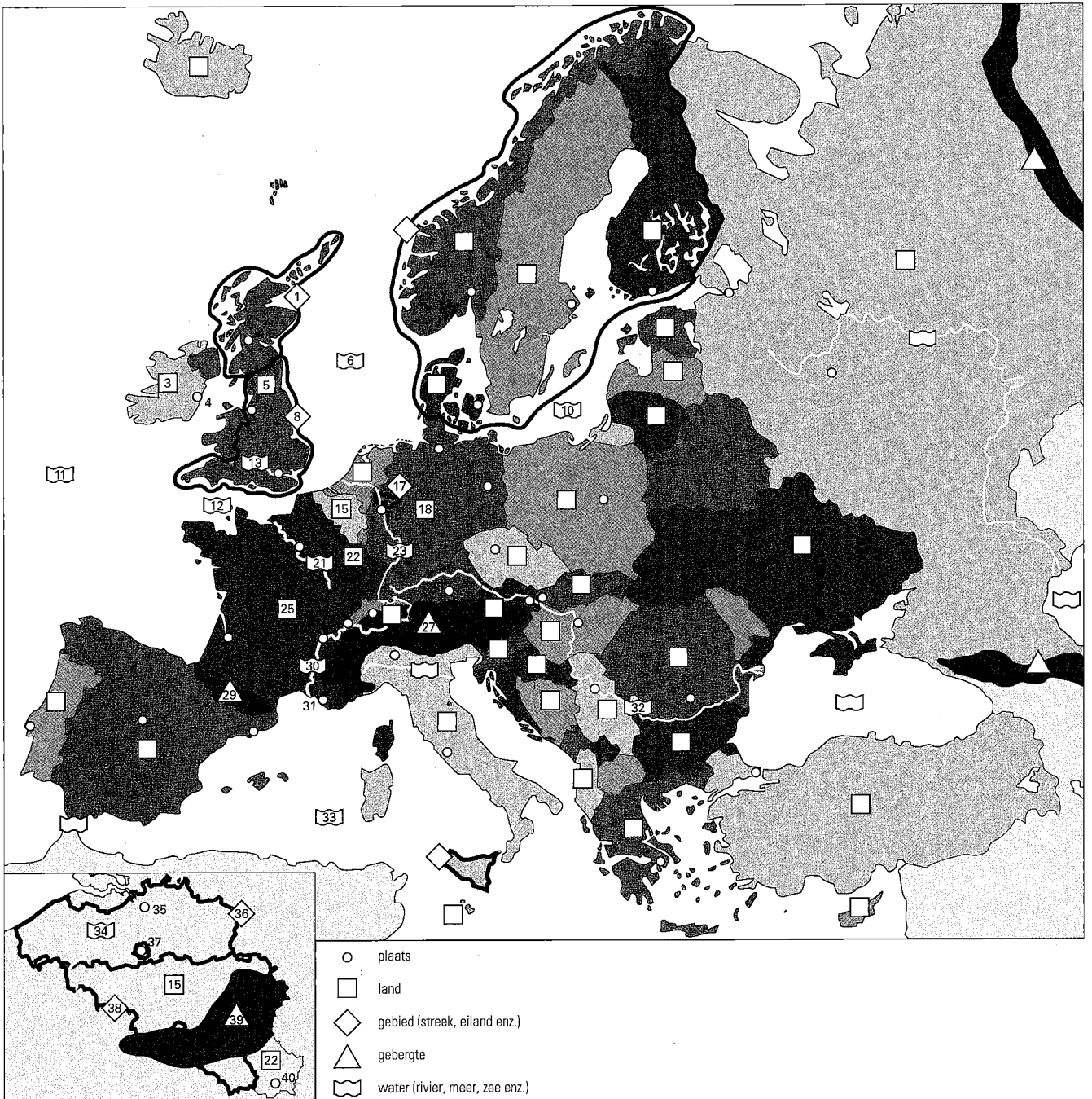


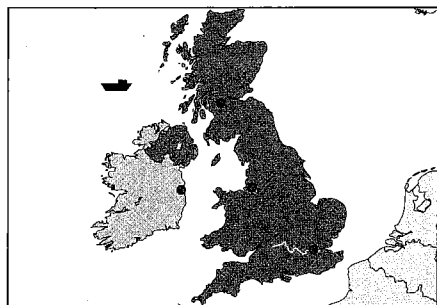
Naam: \_\_\_\_\_ Datum: \_\_\_\_\_ Aantal goed: \_\_\_\_\_



Gebruik de namen op het Antwoordblad van Huiswerkblad A om de topotoppers op deze kaart uit je hoofd te leren.


Laat je daarna overhoren. Bij de overhoring gebruik jij Huiswerkblad A en degene die jou overhoort het Antwoordblad van Huiswerkblad A.

Naam: \_\_\_\_\_ Datum: \_\_\_\_\_ Aantal goed: \_\_\_\_\_




1. In welk water vaart dit schip?

- Atlantische Oceaan
- Het Kanaal
- Noordzee
- Oostzee



2. Franciscus gaat op bedevaart naar Lourdes. Vlakbij welk gebergte ligt Lourdes?

- Ardennen
- Pyreneeën
- Alpen



3. Welke rivier zie je op het kaartje?

- Donau
- Rijn
- Schelde
- Seine

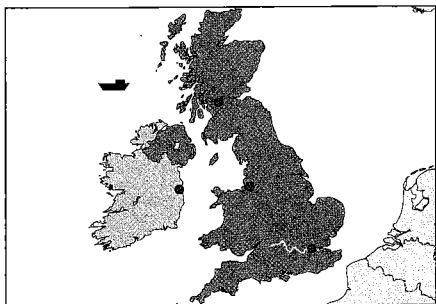
- |   |                              |
|---|------------------------------|
| 4. Welke stad ligt <u>niet</u> in Engeland?       | Glasgow / Liverpool / Londen |
| 5. Welke rivier mondt uit in de Middellandse Zee? | Donau / Rhône / Seine        |
| 6. Antwerpen ligt in Vlaanderen.                  | Ja / Nee                     |
| 7. Berlijn ligt vlakbij de Alpen.                 | Ja / Nee                     |
| 8. Frankrijk ligt aan de Middellandse Zee.        | Ja / Nee                     |
| 9. Hamburg is verbonden met de Oostzee.           | Ja / Nee                     |
| 10. Marseille ligt ten zuiden van Lyon.           | Ja / Nee                     |

Naam: \_\_\_\_\_ Datum: \_\_\_\_\_ Aantal goed: \_\_\_\_\_

Leer de onderstaande plaatsen bij de kaart van Huiswerkblad A.


- |                              |                            |
|------------------------------|----------------------------|
| <b>1</b> Schotland           | <b>21</b> Seine            |
| <b>2</b> Glasgow             | <b>22</b> Luxemburg (land) |
| <b>3</b> Ierland             | <b>23</b> Rijn             |
| <b>4</b> Dublin              | <b>24</b> Bordeaux         |
| <b>5</b> Verenigd Koninkrijk | <b>25</b> Frankrijk        |
| <b>6</b> Noordzee            | <b>26</b> Lyon             |
| <b>7</b> Liverpool           | <b>27</b> Alpen            |
| <b>8</b> Engeland            | <b>28</b> München          |
| <b>9</b> Hamburg             | <b>29</b> Pyreneeën        |
| <b>10</b> Oostzee            | <b>30</b> Rhône            |
| <b>11</b> Atlantische Oceaan | <b>31</b> Marseille        |
| <b>12</b> Het Kanaal         | <b>32</b> Donau            |
| <b>13</b> Theems             | <b>33</b> Middellandse Zee |
| <b>14</b> Londen             | <b>34</b> Schelde          |
| <b>15</b> België             | <b>35</b> Antwerpen        |
| <b>16</b> Keulen             | <b>36</b> Vlaanderen       |
| <b>17</b> Ruhrgebied         | <b>37</b> Brussel          |
| <b>18</b> Duitsland          | <b>38</b> Wallonië         |
| <b>19</b> Berlijn            | <b>39</b> Ardennen         |
| <b>20</b> Parijs             | <b>40</b> Luxemburg (stad) |

Naam: \_\_\_\_\_ Datum: \_\_\_\_\_ Aantal goed: \_\_\_\_\_



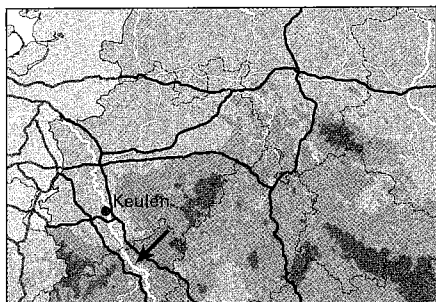
1. In welk water vaart dit schip?

- Atlantische Oceaan  
 Het Kanaal  
 Noordzee  
 Oostzee



2. Franciscus gaat op bedevaart naar Lourdes. Vlakbij welk gebergte ligt Lourdes?

- Ardennen  
 Pyreneeën  
 Alpen



3. Welke rivier zie je op het kaartje?

- Donau  
 Rijn  
 Seine  
 Schelde

4. Welke stad ligt niet in Engeland?

Glasgow / Liverpool / Londen

5. Welke rivier mondt uit in de Middellandse Zee?

Donau / Rhône / Seine

6. Antwerpen ligt in Vlaanderen.

Ja / Nee

7. Berlijn ligt vlakbij de Alpen.

Ja / Nee

8. Frankrijk ligt aan de Middellandse Zee.

Ja / Nee

9. Hamburg is verbonden met de Oostzee.

Ja / Nee

10. Marseille ligt ten zuiden van Lyon.

Ja / Nee